



மாகாணக் கல்வித் திணைக்களம்
வடக்கு மாகாணம்
பயிற்சிப் பரீட்சை- மே - 2019



தரம் 13 (2019)

பொருளியல்- 21-T-1

இரண்டு

மணித்தியாலம்

அறிவுறுத்தல்கள்

- எல்லா வினாக்களுக்கும் விடையளிக்குக.
- சரியான அல்லது பொருத்தமான விடையைத் தெரிவு செய்க. (விடையளிப்பதற்கு பஸ்தேர்வு விடைத்தாள் வழங்கப்படும்.)

பகுதி 1

01) வள அருமை என்பது

1. நாட்டில் ஒரு சில பொருட்களுக்குக் காணப்படும் பற்றாக்குறையாகும்.
2. பொருளாதாரத்தில் காணப்படும் வளங்களைக் கொண்டு மனித விருப்பங்களைப் பூர்த்தி செய்ய முடியாத நிலையொன்றாகும்.
3. பொருளாதார வளர்ச்சி காரணமாக அருந்தல் இல்லாதிருத்தல்.
4. அமெரிக்கா போன்ற நாடுகளில் அருமைப் பிரச்சினை தோன்றாது.
5. பொருளாதாரத்தில் தெரிவு தோன்றுவதற்கு அருமை காரணமாகாது.

02) பின்வருவனவற்றுள் எது சமூக முதலாகும்?

1. பயிர்ச்செய்கை நிலம்
2. தொழிற்சாலைகளும் கட்டடங்களும்
3. தொடர்பாடல் வலையமைப்புக்கள்
4. பொது வீதிகள்
5. அறுவைச் சிகிச்சை நிலையங்கள்

03) பொருளியலில் தெரிவானது

1. வளங்களின் அருமை காரணமாக ஏற்படுகின்றது.
2. வளங்களில் அருமை எல்லையற்ற தேவைகள் காரணமாக ஏற்படுகின்றது.
3. வரையறுக்கப்பட்ட தேவைகள் வரையறுக்கப்பட்ட வளங்கள் காரணமாக ஏற்படுகின்றது.
4. வரையறுக்கப்படாத விருப்பங்கள் மற்றும் வரையறுக்கப்பட்ட வளங்கள் காரணமாக ஏற்படுகின்றது.
5. எல்லாச் சமூகங்களிலும் வளங்கள் வரையறுக்கப்பட்டிருப்பதால் ஏற்படுகின்றது.

04) உற்பத்தி சாத்திய வளைகோட்டின் மீதுள்ள புள்ளியொன்றில் பொருளாதாரம் உற்பத்தி செய்யுமாயின்

1. பொருளாதாரத்தில் வளங்கள் சில பயன்படுத்தப்படும்.
2. அது ஒரு சந்தைப் பொருளாதாரத்தின் பண்பாகும்.
3. வளங்கள் ஒதுக்கீட்டு வினைத்திறனைக் கொண்டிருக்காது.
4. அது அதிகரிக்கும் அமையச் செலவினைக் கொண்ட வளையியாகும்.
5. அது உற்பத்தித்திறனைக் குறிக்கும்.

05) பின்வருவனவற்றுள் சரியான கூற்றினை இனங்காண்க

1. கேள்வி வளையி இடப்புறமாக நகர்வது கேள்விக் குறுக்கத்தினைக் குறிக்கும்.
2. கேள்வி வளையி வலப்புறம் நகர்வதானது கேள்வி நெகிழ்ச்சி அதிகரிப்பதைக் குறிக்கும்.
3. பொருளிகள் விலை அதிகரிக்கும் போது கேள்வித்தொகை குறைவது மெய்வருமான அதிகரிப்பின் காரணத்தினால் ஆகும்.
4. இழிவுப் பண்டம் தொடர்பாக எதிர்க்கணிய பதிலீட்டு விளைவானது எதிர்க்கணிய வருமான விளைவிலும் அதிகமாகும்.
5. விலை அதிகரிக்கும் போது பண்டம் நெகிழ்வுள்ளதாயின் உற்பத்தியாளர் வருமானம் அதிகரிக்கின்றது.

06) சந்தையில் பொருள் ஒன்றிற்கான கேள்விச் சமன்பாடு $qd = 600 - 10p$ என்பதில் இருந்து $Qd = 700 - 10p$ என மாற்றமடைந்துள்ளமைக்கு பின்வருவனவற்றுள் எது காரணமாகும்?

1. பதிலீடுகளின் விலைகள் அதிகரித்தமை.
2. பொருளின் விலை இரட்டிப்படைந்தமை.
3. பொருள் தொடர்பான நுகர்வோர் சுவை மாற்றமடைந்தமை.
4. வீட்டுத்துறையினர் வருமானம் குறைந்தமை.
5. பதிலீட்டுப் பண்டத்தின் விலையில் வீழ்ச்சி.

07) குறிப்பிட்டதொரு பண்டத்திற்கான கேள்வி மற்றும் நிரம்பல் சமன்பாடுகள் கீழே தரப்படுகின்றன.

(கேள்வி) : $QD = 200 - 5P$ (நிரம்பல்) $QS = -100 + 5P$ ரூபா 35 விலையில் அரசு மிகை நிரம்பலைக் கொள்வனவு செய்யுமாயின் கொள்வனவுச் செலவில் ஏற்பட்டுள்ள மாற்றம் யாது?

1. 1500 ரூபாவால் மாற்றமடையும்
2. 1125 ரூபாவால் குறையும்
3. 1125 ரூபாவால் அதிகரிக்கும்
4. 2625 ரூபாவால் அதிகரிக்கும்
5. 1500 ரூபாவால் குறையும்

08) பின்வருவனவற்றுள் எந்த நிலைமை போட்டிச் சந்தையொன்றின் சமநிலை விலையினை வீழ்ச்சியடையச் செய்யும்

1. நெகிழ்வுள்ள கேள்வி உள்ள நிலையில் உற்பத்தி வளங்களின் விலை அதிகரித்தல்
2. கேள்வி நெகிழ்வற்ற நிலையில் உள்ளீடுகளின் விலை குறைதல்
3. பூரண கேள்வி நெகிழ்வற்ற நிலையில் அலகு வரிவிதித்தல்
4. பூரண நிரம்பல் நெகிழ்வுள்ள நிலையில் அலகு வரி விதித்தல்
5. கேள்வி பூரண நெகிழ்வுள்ள நிலையில் உற்பத்தி மானியம் வழங்கப்படுதல்

09) போட்டிச் சந்தையொன்றில் விற்கப்படும் பண்டமொன்றிற்கு அரசு உற்பத்தியாளர் நன்மை கருதி விதிக்கப்படும் கட்டுப்பாட்டு விலையில் ஏற்படும் மிகையினை அரசு கொள்வனவு செய்வதாகக் கருதுக. கட்டுப்பாட்டு விலை காரணமாக உற்பத்தியாளர் மிகை மற்றும் நுகர்வோர் மிகை என்பவற்றில் ஏற்படும் பாதிப்பு யாது?

உற்பத்தியாளர் மிகை	நுகர்வோர் மிகை
1. குறையும்	குறையும்
2. குறையும்	அதிகரிக்கும்
3. மாறாது	அதிகரிக்கும்
4. அதிகரிக்கும்	அதிகரிக்கும்
5. அதிகரிக்கும்	குறையும்

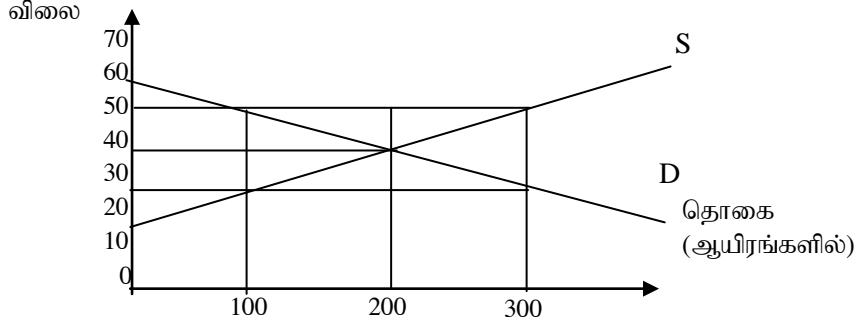
10) சந்தையில் விற்கப்படும் பண்டமொன்றிற்கான கேள்வி நிரம்பல் சார்புகள் கீழே தரப்படுகின்றன.

கேள்வி : $(Qd) = 6000 - 100P$, நிரம்பல் $(QS) = -2000 + 100P$ சந்தையில் தலையிடுவதன் மூலம் அரசாங்கம் ரூபா 30 ஐ கட்டுப்பாட்டு விலையாக விதிப்பதாகக் கருதுக.

பின்வருவனவற்றுள் எது சரியாகும்

இறக்குமதிச் செலவு	மொத்த நுகர்வுச் செலவு
1. ரூபா 60,000	ரூபா 80,000
2. ரூபா 30,000	ரூபா 60,000
3. ரூபா 60,000	ரூபா 90,000
4. ரூபா 60,000	ரூபா 30,000
5. ரூபா 90,000	ரூபா 60,000

- 11) ஆடையினை விற்பனை செய்யும் சந்தையொன்றின் கேள்வி நிரம்பல் வளையிகள் பின்வரும் வரைபடம் மூலம் காட்டப்படுகின்றன



அரசினால் 200 ஆயிரம் ஆடைகளுக்கு இறக்குமதிக்கான அனுமதிப் பங்கு வழங்கத் தீர்மானித்தால் ஆடைக்கான சந்தை சமநிலை மற்றும் தொகை அளவு யாது?

1. சமநிலை விலை ரூபா 50, தொகையளவு 300
2. சமநிலை விலை ரூபா 40, தொகையளவு 200
3. சமநிலை விலை ரூபா 30, தொகையளவு 200
4. சமநிலை விலை ரூபா 30, தொகையளவு 100
5. சமநிலை விலை ரூபா 30, தொகையளவு 300

- 12) குறிப்பிட்ட ஓர் பண்டத்தின் விலை அதிகரித்த போதும் அப்பொருளை விற்பனை செய்யும் விற்பனையாளர் வருமானம் வீழ்ச்சியடைந்திருந்தது எனின் அப்பொருள்

1. அலகு விலை நெகிழ்ச்சி கொண்ட பொருளாகும்.
2. கேள்வி பூரண நெகிழ்வுள்ள பொருளாகும்.
3. பூரண கேள்வி நெகிழ்வற்ற பொருளாகும்.
4. கேள்வி விலை நெகிழ்ச்சி கொண்ட பொருளாகும்.
5. நிரம்பல் விலை நெகிழ்ச்சி கொண்ட பொருளாகும்.

- 13) நிறுவனம் ஒன்று ரூபா 10 விலையில் 10 மில்லியன் கன்டோஸ்களை விற்பனை செய்கின்றது. பொருளின் விலைக் கேள்வி நெகிழ்ச்சி - 2.5 ஆகும் இந் நிறுவனம் பொருளின் விலையினை 20 சதவீதத்தால் குறைக்குமாயின் நிறுவனத்தின் வருமானம் எவ்வளவால் மாற்றமடையும்.

1. 50 மில்லியனால் உயரும்.
2. 20 மில்லியனால் குறையும்.
3. 30 மில்லியனால் அதிகரிக்கும்.
4. 40 மில்லியனால் குறைவடையும்.
5. 20 மில்லியனால் அதிகரிக்கும்.

- 14) குறிப்பிட்ட ஓர் பண்டத்தின் கேள்விச் சார்பு $QD = 300 - 10P$ ஆகவும், இப்பண்டம் எல்லா விலைகளிலும் 150 அலகு நிலையான நிரம்பலைக் கொண்டதாகவும் கருதுக. அரசாங்கம் இப்பண்டத்தை வழங்கல் செய்யும் இழிவு விலையாக ரூபா 20 ஐ தீர்மானிக்கின்றது. எனின் பின்வரும் சேர்க்கைகளில் சரியானது

	மேலதிக வழங்கல்	நுகர்வோன் மிகையில் மாற்றம்	உற்பத்தியாளர் மிகையில் மாற்றம்
1	625 அலகு	ரூபா 625	ரூபா 750
2	50 அலகு	ரூபா 625	ரூபா 750
3	50 அலகு	ரூபா 750	ரூபா 625
4	100 அலகு	ரூபா 1125	ரூபா 2250
5	150 அலகு	ரூபா 750	ரூபா 1125

- 15) குறுங்காலத்தில் நிறுவனமொன்றின் சராசரி உற்பத்தி (AP) உச்சநிலை எய்தும் போது
1. எல்லை உற்பத்தி குறைந்து செல்லும்.
 2. எல்லைச் செலவு வீழ்ச்சியடையும்.
 3. சராசரிக் செலவு அதிகரிக்கும்.
 4. மொத்த உற்பத்தியானது உச்ச நிலையினை அடையும்.
 5. எல்லைச் செலவு சராசரி மாறும் செலவின் இழிவுப் புள்ளியை வெட்டித் செல்லும்.
- 16) நிறைபோட்டி நிறுவனமொன்றின் இலாப உச்சப்படுத்தல் வெளியீட்டு மட்டமானது தீர்மானிக்கப்படுவது,
1. அதிகரித்துச் செல்லும் எல்லைச் செலவு (MC) எல்லை வருமானத்திற்கு (MR) சமனாகும் போது
 2. எல்லை நலன் (MB) எல்லைச் செலவிற்குச் (MC) சமனாகும் போது
 3. நிறுவனத்தின் எல்லை வருவாய் (MR) எல்லைச் செலவிற்குச் (MC) சமனடையும் போது
 4. நிறுவனத்தின் மொத்த வருமானம் (TR) மொத்த செலவிற்கு (TC) சமனாகும் போது
 5. குறையும் எல்லை விளைவு விதி தீவிரமடையும் போது
- 17) குறுங்காலத்தில் நிறைபோட்டி நிறுவனமொன்றின் இலாப உச்சப்படுத்தல் வெளியீட்டு மட்டம் 2000 அலகுகளும் சந்தையின் சமநிலை விலை ரூபா 50 எனவும் கருதுக. இவ்வற்பத்தி மட்டத்தில் நிறுவனம் ரூபா 20,000 பொருளியல் இலாபத்தை உழைக்கின்றது. சமநிலை வெளியீட்டு மட்டத்தில் சராசரி மாறும் செலவு (AVC) ரூபா 30 எனவும் அமைகிறது எனின் உற்பத்தியாளர் மிகை யாது
1. 100, 000 ரூபா
 2. 80,000 ரூபா
 3. 60, 000 ரூபா
 4. 40, 000 ரூபா
 5. 30,000 ரூபா
- 18) நிறைபோட்டி நிறுவனமொன்றினது மொத்த வருமானம் மற்றும் மொத்தச் செலவுக் கோடுகளின் தொடுகோட்டுச் சரிவுகள் சமனடையும் வெளியீட்டு மட்டத்தில்
1. நிறுவனம் சாதாரண இலாபத்தினை அடையும்
 2. நிறுவனம் இலாபம் ஒன்றினை அடையும்
 3. நிறுவனத்தின் நட்டம் இழிவு படுத்தப்படும்
 4. நிறுவனத்தின் இலாபம் உச்சப்படுத்தப்படும்
 5. நிறுவனம் இலாப நட்டமற்ற நிலையினையடையும்
- 19) தேசியக் கணக்கீட்டில் உற்பத்தி எல்லையினுள் அடக்கப்படாத உற்பத்திச் செயற்பாடுகள்
1. சம்பளம் பெறும் ஊழியர்கள் மூலம் நிறைவேற்றப்படும் குடும்ப வேலைகள்
 2. துணி நெய்தல், உடைகள் தைத்தல், ஆடைகள் பின்னூதல்
 3. வீட்டை அழகுபடுத்தலும் சுத்தம் செய்தலும்
 4. சந்தையில் விற்பனையாகும் பொருட்களும் சேவைகளும்
 5. விவசாய உற்பத்திகளைத் தயாரித்தல், மீன் பதனிடுதல்
- 20) செலவு வழித் தேசிய கணக்கீட்டின் படி மொத்தச் தேசிய வருமானத்தின் பெறுமதி கணப்பிடப்படுவது
1. இறுதி நுகர்வு + மொத்த உள்நாட்டு மூலதனம் + ஏற்றுமதி + தேறிய வெளிநாட்டு முதன்மை வருமானம்
 2. இறுதி நுகர்வு + மொத்த முதலீடு - தேறிய இறக்குமதி + தேறிய வெளிநாட்டு முதன்மை வருமானம்
 3. தனியார் நுகர்வு + அரசு கொள்வனவு + நிலையான மூலதன வாக்கம் + தேறிய வெளிநாட்டு முதன்மை வருவாய்
 4. வீட்டுத்துறை நுகர்வு + அரசாங்கக் கொள்வனவு + தேறிய ஏற்றுமதி + மொத்த உள்நாட்டு மூலதனவாக்கம் + தேறிய வெளிநாட்டு முதன்மை வருமானம்
 5. இறுதி நுகர்வு + மொத்த உள்நாட்டு நிலையான மூலதன வாக்கம் + இருப்பு மாற்றம் தேறிய ஏற்றுமதி + தேறிய நடைமுறை மாற்றல்கள்

21) பொருளாதாரமொன்றின் தேசியக்கணக்கீட்டுடன் தொடர்புடைய தரவுகள் கீழே தரப்படுகின்றன

வகை	தொகை (மில்லியன் ரூபா)
மொத்த உள்நாட்டு உற்பத்தி	22000
மொத்த உள்நாட்டு மூலதனவாக்கம்	9000
அரசாங்கம் கொள்வனவு	5000
தேறிய ஏற்றுமதிகள்	2000

பொருளாதாரத்தில் தனியார் நுகர்வுச் செலவின் பெறுமதி

1. 5000 மில்லியன்
2. 6000 மில்லியன்
3. 4000 மில்லியன்
4. 8000 மில்லியன்
5. 12000 மில்லியன்

22) அரசதுறையுள்ள மூடிய பொருளாதாரமொன்றில் அரசாங்கச் செலவுகள் 500 மில்லியனாக வீழ்ச்சியடையும் போது வருமானம் 2500 மில்லியனாக வீழ்ச்சியடையுமாயின் எல்லை சேமிப்பு நாட்டத்தின் பெறுமதி யாது?

1. 0.5
2. 0.8
3. 0.2
4. 0.75
5. 0.6

23) அரசதுறையுள்ள மூடியபொருளாதாரமொன்றில் வரிப் பெருகிக் குணகம் - 1.5 ஆகும். சமநிலைத் தேசிய வருமானம் 500 மில்லியனாக அதிகரிக்குமாயின் நுகர்ச்சி மற்றும் சேமிப்பு என்பன எவ்வளவாக மாற்றமடையும்

	நுகர்ச்சி மட்டம்	சேமிப்பு மட்டம்
1	200 மில்லியன் அதிகரிக்கும்	300 மில்லியன் அதிகரிக்கும்
2	500 மில்லியன் குறையும்	400 மில்லியன் அதிகரிக்கும்
3	300 மில்லியன் அதிகரிக்கும்	200 மில்லியன் அதிகரிக்கும்
4	300 மில்லியன் குறையும்	200 மில்லியன் குறையும்
5	350 மில்லியன் குறையும்	250 மில்லியன் குறையும்

24) எளிமையான பொருளாதாரமொன்றில் மொத்த நுகர்ச்சி வளைகோட்டின் சரிவு வீழ்ச்சியடைவதனால் ஏற்படக் கூடிய பொருளாதார விளைவு

1. பெருக்கியின் பெறுமதி உயர்வதுடன் சமநிலை வருமானம் அதிகரிக்கும்
2. பெருக்கியின் பெறுமதி குறைவதுடன் சமநிலை வருமானம் குறையும்
3. பெருக்கியின் பெறுமதி உயர்வதுடன் சமநிலை வருமானம் குறையும்
4. பெருக்கியின் பெறுமதி குறைவதுடன் சமநிலை வருமானம் அதிகரிக்கும்
5. பெருக்கியின் பெறுமானம் உயர்வதுடன் சமநிலை வருமானம் மாறாது.

25) மூடப்பட்ட பொருளாதாரமொன்றில் அரசாங்கம் வரியினை 50 மில்லியனாக குறைத்து அரசாங்க கொள்வனவினை 50 மில்லியனாக அதிகரித்தது எனக் கருதுக . எல்லை நுகர்வு நாட்டம் 0.60 எனின் சமநிலை வருமான மட்டம்

1. 200 மில்லியன் அதிகரிக்கும்
2. 125 மில்லியன் அதிகரிக்கும்
3. 250 மில்லியன் அதிகரிக்கும்
4. 50 மில்லியன் அதிகரிக்கும்
5. 200 மில்லியன் வீழ்ச்சியடையும்

26) விரிந்த பண நிரம்பலில் (m2) பணமாகக் கருதப்படக் கூடியது

1. தாள் குற்றி நாணயங்கள் மற்றும் வைப்புக்கள்
2. காசோலைகள் மற்றும் சேமிப்பு வைப்புக்கள்
3. தவணை மற்றும் சேமிப்பு வைப்புக்கள்
4. காசோலைகள் மற்றும் நிலையான வைப்புக்கள்
5. தாள் குற்றி நாணயங்களும் கேள்வி வைப்புக்களும்

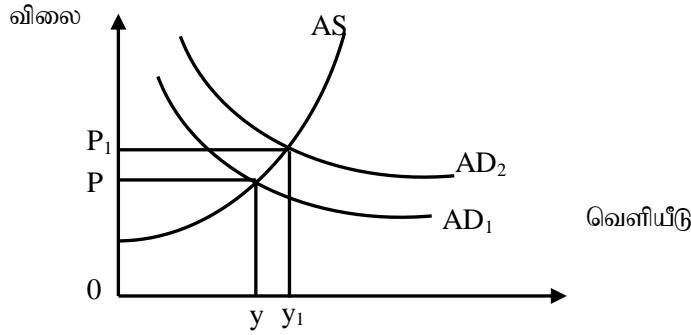
27) இலங்கையின் பணவியல் தொடர்பான தரவுகள் கீழே காட்டப்படுகின்றன

விடயம்	தொகை மில்லியன்
பணப்பெருக்கிக் குணகம்	5
M பண நிரம்பல்	2500
வணிக வங்கியில் உள்ள நாணயம்	150
வணிக வங்கியின் பெயரில் மத்திய வங்கியில் உள்ள வைப்பு	200

பொது மக்களிடம் உள்ள நாணயத்தின் அளவு யாது?

1. 250 மில்லியன்
2. 100 மில்லியன்
3. 150 மில்லியன்
4. 300 மில்லியன்
5. 500 மில்லியன்

28) பொருளாதாரமொன்றின் மொத்தக் கேள்வி (AD) மொத்த நிரம்பல் (AS) வளையிகள் பின்வரும் வரைபடத்தினால் காட்டப்படுகின்றது.



மொத்த கேள்வி AD_1 இலிருந்து AD_2 ஆக நகர்வதற்கு ஏதுவாக அமையக் கூடிய காரணி எது?

1. வட்டி வீதம் அதிகரித்தல்
2. அரச செலவு அதிகரித்தல்
3. வரி அதிகரித்தல்
4. தேறிய இறக்குமதி அதிகரித்தல்
5. பண நிரம்பல் குறைவடைதல்

29) பணத்தினை பணமாக வைத்திருப்பது தொடர்பாக பொதுமக்களின் விருப்பம் அதிகரிப்பது

1. பண நிரம்பலில் ஓர் வீழ்ச்சி ஏற்படும் போதாகும்.
2. சந்தை விலை மொத்த உள்நாட்டு உற்பத்தி அதிகரிக்கும் போதாகும்.
3. தேறிய மொத்த உள்நாட்டு உற்பத்தி குறையும் போதாகும்.
4. பண்டங்களின் விலை மட்டம் வீழ்ச்சியடையும் போதாகும்.
5. நிதிப்பத்திரங்களின் விலை அதிகரிக்கும் போதாகும்.

30) வங்கி முறைமையொன்றில் இயங்கும் வணிக வங்கியொன்று ரூபா 50,000 வைப்புக்களையும் ரூபா 20000 ஒதுக்கீடுகளையும் 30000 ரூபாவைக் கடன்களாகவும் கொண்டுள்ளது. சட்டப்படியான ஒதுக்கீடு 20% எனின் வங்கி முறைமை கொண்டுள்ள புதிய வைப்புக்களின் பெறுமதி

1. ரூபா 100,000
2. ரூபா 50,000
3. ரூபா 10,000
4. ரூபா 20,000
5. ரூபா 80,000

31) மத்திய வங்கி பணச்சந்தையில் மீள் விற்பனையில் ஈடுபடுமாயின்

1. வணிக வங்கிகளின் நிரவப்பற்றாக்குறை அதிகரிக்கும்
2. பணச்சந்தையில் திரவத்தன்மை நிரம்பல் அதிகரிக்கும்
3. பணச்சந்தையில் நிரவத்தன்மை நிரம்பல் குறையும்
4. பொது மக்களது கடனுக்கான கேள்வி குறைவடையும்
5. வணிக வங்கிகளின் மிகை ஒதுக்கீடுகள் குறைவடையும்

- 32) பொருளாதாரம் ஒன்றில் சந்தைத் தோல்வி ஏற்படுவதற்கு மிகப் பொருத்தமான காரணி,
1. பொது வளங்கள் காணப்படுதல்
 2. நேர் வெளிவாரிகள் காணப்படுதல்
 3. சந்தையின் மூலம் வினைத்திறனாக வளங்கள் ஒதுக்கப்படுதல்
 4. சந்தையின் மூலம் தனியார் நலன் மாத்திரம் கவனத்திற் கொள்ளப்படுதல்
 5. பொதுப்பண்டங்கள் வேகத்தை அரசு வழங்கல்
- 33) அரசாங்கத் தோல்வி ஏற்படுவதற்குக் காரணமாக அமைவது
1. வளங்கள் வினைத்திறனாக ஒதுக்கீடு செய்யப்படாமை
 2. பொதுப் பொருட்கள் நோக்கி வளங்களை ஒதுக்கீடு செய்தல்
 3. அரசியல் கொள்கைகளில் தூர நோக்குச் சிந்தனை இன்மை
 4. நிர்வாகச் செலவுகள் குறைவாகக் காணப்படுதல்
 5. வருமானப் பங்கீட்டினை நியாயமான முறையில் செயற்படுத்துதல்
- 34) வெளிவாரி நேர்விளைவுகளை ஊக்குவிப்பதற்காக அரசாங்கம் மேற்கொள்ளக் கூடிய நடவடிக்கை
1. சுற்றாடல் வரி விதித்தல்
 2. அரசினால் தண்டப்பணம் அறவிடல்
 3. அனுமதிப்பத்திரம் வழங்குதல்
 4. கேள்வியினைத் துண்டுதல் தொடர்பான நடவடிக்கை மேற்கொள்ளல்
 5. மீள் சுழற்சிக்கு உட்படுத்துதல்
- 35) வரி அறவிடலில் நிலைக்குத்து நியாயத்துவம் என்பது
1. ஒரே பொருளாதார இயலுமை கொண்ட நபர்களை சமமாகக் கருதி ஒரே அளவான வரிச்சுமையை ஏற்படுத்துதல் ஆகும்
 2. சமனற்ற பொருளாதார இயலுமை கொண்ட நபர்களை சமனற்றவராகக் கருதி வெவ்வேறு வீத வரியினை அறவிடுதல் ஆகும்.
 3. நுகர்வொர் மீது குறிப்பிட்டளவு வரியைச் சுமத்த முடிதல்
 4. ஒருவர் மீது விதிக்கப்படும் வரிச்சுமை முழுவதும் இன்னொருவர் மீது சாட்டுதல் செய்ய முடிதலாகும்
 5. வரித்தளம் உயர்வடைகையில் எல்லை வரி வீதம் குறைந்து செல்லுதலாகும்
- 36) சந்தைப் பொருளாதாரங்களில் தீங்கிழைக்கும் பண்டங்கள் கூடுதலாக வெளியீடு செய்யப் படும் ஏனெனில்
1. சமூக நன்மைகள் தனியார் நன்மைகளை விட அதிகமாகவிருக்கும்
 2. தனியார் செலவுகளை விட சமூகச் செலவுகள் குறைவானதாகும்
 3. தனியார் நன்மைகள் சமூக நன்மைகளை விடக் கூடுதலாகவிருக்கும்
 4. வெளிவாரிச் செலவுகள் குறைந்தளவே காணப்படும்
 5. இப்பண்டங்கள் வெளிவாரி நன்மைகள் தரும் பண்டங்களாகும்
- 37) நுகர்வில் போட்டித் தன்மை வாய்ந்ததாகவும் நுகர்விலிருந்து விலக்கப்பட முடியாததாகவும் இருப்பது
1. தனியார் பண்டம்
 2. மேன்மைப் பண்டங்கள்
 3. ஆதன வளங்கள்
 4. தூய பொதுப் பண்டம்
 5. பொது வளங்கள்
- 38) அமெரிக்கா மற்றும் பிரேசில் நாடுகள் ஓரலகு வளச்சேர்க்கையைப் பயன்படுத்தி x, y ஆகிய பண்டங்களை உற்பத்தி செய்யும் நிலைமைகளைப் பின்வரும் அட்டவணை காட்டுகின்றது

	அமெரிக்கா	பிரேசில்
x பண்டம்	25	20
y பண்டம்	15	10

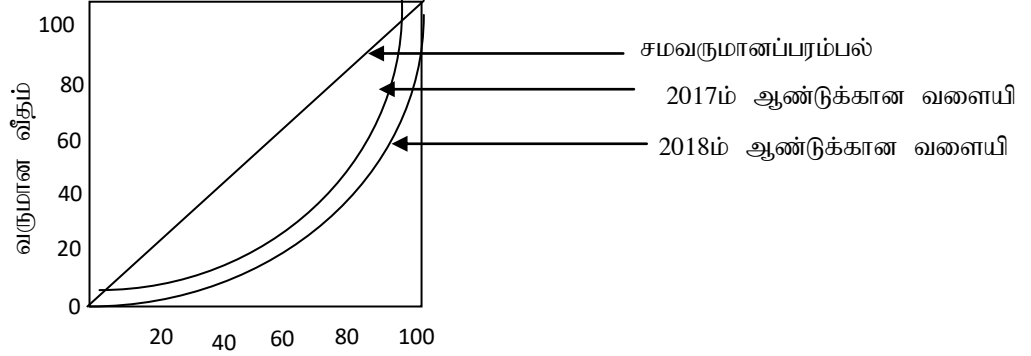
அட்டவணையிலிருந்து பெறக் கூடிய சரியான முடிவு

1. அமெரிக்கா x பண்டத்திலும் பிரேசில் y பண்டத்திலும் முழு நன்மையைக் கொண்டதாகும்
2. பிரேசில் y பண்டம் தொடர்பாக ஒப்பீட்டு நன்மையைக் கொண்டது
3. பிரேசில் நாடு x பண்ட உற்பத்தியில் ஒப்பீட்டு நன்மையைக் கொண்டது
4. அமெரிக்கா x பொருளை உற்பத்தி செய்து ஏற்றுமதி செய்யும்
5. பிரேசில் y பொருளை உற்பத்தி செய்து ஏற்றுமதி செய்யும்

- 39) சென்மதி நிலுவையின் நீண்டகாலப் பற்றாக்குறையொன்று தோன்றும் போது அதனைத் தீர்ப்பதற்கு முன்வைக்கக் கூடிய முன்மொழிவுகளில் ஒன்று?
1. நாணயமாற்று விகிதத்தின் பெறுமதியினை அதிகரித்தல்
 2. அத்தியவசியமான இறக்குமதி தவிர ஏனைய இறக்குமதிகளை தைரியப்படுத்துதல்
 3. இறக்குமதிக்கான ஒப்பந்தங்களைத் தைரியப்படுத்தல்
 4. வெளிநாட்டிலிருந்தான நேர் முதலீடுகளைக் கட்டுப்படுத்துதல்
 5. வெளிநாட்டுக்கடன் வசதிகளைப் பெற்றுக் கொடுத்தல்
- 40) இலங்கையின் பணவீக்க வீதத்தை விட வெளிநாட்டு வர்த்தகத்தில் ஈடுபடும் நாட்டினது பணவீக்க வீதம் உயர்வாக இருப்பின்
1. நாட்டின் பெயரளவு பயனுறுதி வாய்ந்த நாணய மாற்று வீதம் மெய்ப்பயனுறுதி வாய்ந்த நாணயமாற்று வீதத்தை விட உயர்வாக இருக்கும்
 2. மெய்ப்பயனுறுதி வாய்ந்த நாணய மாற்று வீதத்தைக் காட்டிலும் பெயரளவு பயனுறுதி நாணய மாற்று வீதம் உயர்வாக அமையும்
 3. பெயரளவு நாணய மாற்று வீதம் உயர் பெறுமதி உடையது
 4. பெயரளவுப் பெறுமதி வாய்ந்த நாணய மாற்று வீதத்தை விட மெய்ப்பயனுறுதி வாய்ந்த நாணய மாற்று வீதம் குறைந்த பெறுமதி கொள்ளும்
 5. மெய்ப்பயனுறுதி வாய்ந்த நாணய மாற்று வீதம் உயர்வாகவிருக்கும்
- 41) பல்பக்க சர்வதேச நிதி நிறுவனமான ஆசிய – அபிவிருத்தி வங்கி (ADB) யின் நோக்கம்
1. அங்கத்துவ நாடுகளிடையே ஒற்றுமையையும் ஒத்துழைப்பையும் ஏற்படுத்தல்
 2. அங்கத்துவ நாடுகளிடையே வறுமையைக் குறைப்பதும் மக்களின் வாழ்க்கைத்தரத்தினை உயர்த்துவதுமாகும்
 3. அங்கத்துவ நாடுகளிடையே முதலீட்டை ஊக்குவித்தல்
 4. அங்கத்துவ நாடுகளின் கலாசாரத்தை பகிர்ந்து கொள்ளுதல்
 5. அங்கத்துவ நாடுகளில் போர் ஏற்படாது பாதுகாத்தலும் விருத்தி செய்தலும்
- 42) உற்பத்திக் காரணிகளும், பொருட்கள் சேவைகளும் ஒப்பந்தம் செய்யப்பட்ட நாடுகளுக்கிடையில் தடையின்றி அசைவதற்கு வாய்ப்பளிக்கும் பொது வர்த்தகப் பங்குடமைக்கு உதாரணமாக அமைவது?
1. மத்திய அமெரிக்க பொதுச்சந்தை (CACM)
 2. ஆபிரிக்க சுதந்திர வர்த்தகவலயம் (AFTZ)
 3. தீர்வை வரிச் சங்கம் (CU)
 4. சுதந்திர வர்த்தக வலயம் (FTA)
 5. பொருளாதார மற்றும் நிதிச் சங்கம் (EU)
- 43) பொருளாதார வளர்ச்சி ஒன்று ஏற்பட்டுள்ளமையைச் சிறப்பாக விபரிப்பது,
1. உற்பத்தி மட்டம் அதிகரிப்பதும் வருமானங்களின் பங்கீடு நியாயமாக அமைவதுமாகும்.
 2. உற்பத்தி சாத்திய வளையிக்குள் உற்பத்தி அமைந்தாலும் உற்பத்தி மட்டம் அதிகரித்துச் செல்லுதல் வேண்டும்.
 3. உற்பத்தி சாத்திய வளையியின் வலதுபுறநகர்வும் மொத்த நீண்டகால நிரம்பல் வளையின் நகர்வும்
 4. உற்பத்தி சாத்திய வளையகோட்டின் வலப்புறமான நகர்வும் நீண்டகால மொத்த நிரம்பல் வளையகோட்டின் வலப்புற நகர்வும்
 5. பொருளாதாரத்தில் உத்தம உற்பத்தி மட்டத்தின் அதிகரிப்பாகும்.
- 44) வளர்ச்சிக் செயற்பாட்டில் வெற்றி கண்ட நாடுகளின் பொதுப் பண்புகளில் ஒன்று
1. வளப்பங்கீடானது அரச அதிகாரத்தின் மூலம் நடை பெறுதல்
 2. சந்தை சக்திகளினால் பேரினப் பொருளாதார இலக்குகள் எய்தப்படுதல்
 3. உயர்வான சேமிப்பு மற்றும் முதலீட்டு மட்டங்களைப் பேணிச் செல்லுதல்
 4. தொழிலாளர்களிடையே நட்புறவினை மேம்படுத்துதல்
 5. ஊழியப்படையின் உற்பத்தித்திறனை உருவாக்குதல்

- 45) இலங்கையில் மானிட அபிவிருத்தியை அளவிடுவதற்குப் பயன்படுத்தப்படுகின்ற நியதிகள்/கூறுகளைக் கொண்ட தொகுதியை இனங்காண்க
1. பாடசாலைக் கல்வியை பெற்ற ஆண்டுகளின் எண்ணிக்கை, சுகாதாரம்
 2. கொள்வனவு சக்தி அடிப்படையிலான தலாவருமானம், கல்வி, சுகாதாரம்
 3. சுகாதார வசதிகளின் தரம், பாடசாலைக் கல்வியின் தரம் மற்றும் நலத்துறை
 4. சுகாதாரம், வாழ்க்கைத்தரம், அறிவு
 5. உயர்வருமானம், உயர்சுகாதாரம், உயர்கல்வி

- 46) கற்பிதமான ஒரு நாட்டின் வளையியை பின்வரும் வரைபு காட்டுகின்றது.



வருமானம் பெறுவோர் வீதம்

குறிப்பிட்ட நாட்டில் எத்தகைய நிகழ்வு இடம் பெற்றுள்ளது

1. வறியோர் சார்பாக வீட்டுத்திட்டங்கள் வழங்கப்பட்டுள்ளது
2. வருமானம் ஓரளவு சமத்துவம் செய்யப்பட்டுள்ளது.
3. 2018ம் ஆண்டு வறுமைத் தணிப்புத்திட்டங்கள் குறைக்கப்பட்டுள்ளது
4. பிரதேச ரீதியாக வருமானம் சமத்துவமாக்கப்பட்டுள்ளது
5. நாட்டின் வருமானம் மக்களிடையே சீராகப் பகிரப்பட்டுள்ளது

- 47) கருதுகோள் ரீதியாக குறித்தவொரு நாட்டின் பொருளாதாரத் தரவுகள் கீழே தரப்படுகின்றன.

வகை	தொகை (மில்லியன்)
வேலை தேடுவோர் தொகை	20
வீட்டுத் தலைவிகள்	15
முழுநேர மாணவர்	20
வேலை செய்யக் கூடிய வயதிலான சனத்தொகை	200
அங்கவீன முற்றோர்	05

மேலேயுள்ள தரவுகளின் படி குறிப்பிட்ட நாட்டின் வேலை வாய்ப்பு வீதத்தையும் ஊழியப்படை பங்கு கொள்ளல் வீதத்தையும் காட்டும் சரியான விடை யாது?

வேலை வாய்ப்பு வீதம் ஊழியப்படை பங்கு கொள்ளல் வீதம்

1. 10% 70%
2. 15% 80%
3. 87.5% 80%
4. 60% 80%
5. 25% 65%

- 48) வருமானப் பரம்பலின் ஏற்றத்தாழ்வு அளவிடப்படுவது,

1. ஐயனை பரவல் விகிதத்தின் மூலமாகும்
2. தலைக்குரிய வருமான மட்டத்தின் மூலமாகும்
3. தலைக்குரிய கொள்வனவு சமமதிப்பு வருமானம் மூலமாகும்
4. மெய் மொத்த உள்நாட்டு உற்பத்தியின் வளர்ச்சி வீதத்தினாலாகும்
5. மெய் மொத்தத் தேசிய வருமானத்தின் வளர்ச்சி மூலமாகும்

49) ஆட்கணிப்பு வறுமைச்சுட்டெண் என்பது

1. வறுமையில் வாழும் சனத்தொகையினை மொத்த செல்வந்தர்களின் எண்ணிக்கையின் நூற்று வீதமாகக் கூறுதல் ஆகும்.
2. வறுமைக் கோட்டின் கீழ் உள்ள சனத்தொகையினை மொத்த சனத்தொகையின் சதவீதமாகக் காட்டுதல் ஆகும்.
3. உணவும் உணவல்லாத பொருட்கள் சேவைகளை நுகரும் பொருட்டு ஏற்படும் செலவினை வறிய சனத்தொகையின் விகிதமாகக் கூறுதலாகும்
4. வறுமைக் கோட்டின் கீழ் உள்ள சனத் தொகையினை ஊழியப் படையின் நூற்று வீதமாகக் கூறுதலாகும்
5. குறைந்த வருமானம் பெறும் பிரிவினருக்கும் உயர்வருமானம் பெறும் மக்கள் பிரிவினருக்கும் இடையிலான விகிதத்தினாலாகும்

50) அபிவிருத்தியினை அளவிடுவதற்காக அறிமுகப்படுத்தப்பட்டுள்ள மகிழ்ச்சிச் சுட்டெண் பல்வேறு துறைகளை அளவிடப் பயன்படுகின்றது. அத்துறைகளைக் கொண்ட தொகுதி எது?

1. விவசாயம், கைத்தொழில், சேவை மற்றும் அரசியல்
2. சமூக, பொருளாதார மற்றும் சேவைத்துறை
3. சமூக, பொருளாதார, கலாசார அரசியல் மற்றும் சூழல்
4. பொருளாதார, சமூக மானிடத்துறை
5. உற்பத்தி சேவை, தொழில்நுட்ப மற்றும் மானிடத்துறை